

Hari : _____

Tarikh : _____

WANG
HINGGA RM

TAHUN 1

NAMA : _____

TAHUN : _____

Hari : _____

Tarikh : _____

Padankan

1)



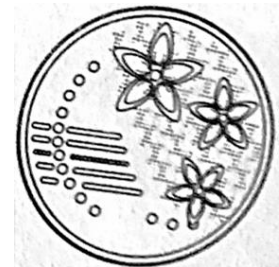
2)




3)



4)



5)



Hari : _____

Tarikh : _____

Padankan

1)




2)



3)



4)



5)



Hari : _____

Tarikh : _____

Warnakan duit syiling mengikut nilai

1)

30 sen



2)

50 sen



3)

20 sen



4)

80 sen



5)

40 sen



Hari : _____

Tarikh : _____

Warnakan duit syiing mengikut nilai

1)

65 sen



2)

25 sen



3)

55 sen



4)

15 sen



5)

75 sen



Hari : _____

Tarikh : _____

Isikan tempat kosong dengan jawapan yang betul

RM 5

10 sen

20 sen

50 sen

RM 1

RM 10

1)



2)



3)



4)



5)



6)



Hari : _____

Tarikh : _____

Isikan tempat kosong dengan jawapan yang betul

RM 1.50

50 sen


RM 2

40 sen


RM 10

RM 6


1)




2)




3)




4)



5)



6)



Hari : _____

Tarikh : _____

Warnakan nilai wang yang betul

1)



satu ringgit

sepuluh ringgit

2)



lima puluh ringgit

lima ringgit

3)



sepuluh ringgit

sepuluh sen

4)



lima puluh ringgit

lima puluh sen

5)



sepuluh sen

sepuluh ringgit

6)



dua puluh sen

dua sen

7)



lima puluh sen

lima ringgit

8)



lima sen

lima puluh sen

Hari : _____

Tarikh : _____

Warnakan nilai wang yang betul

1)



RM1.00

RM10.00

2)



RM5.00

RM15.00

3)



RM10.00

RM1.00

4)



RM50.00

RM5.00

5)



RM0.10

RM10.00

6)



RM20.00

RM0.20

7)



RM50.00

RM0.50

8)



RM0.50

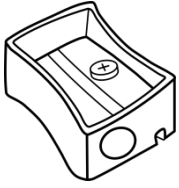
RM5.00

Hari : _____

Tarikh : _____

Padankan

1) pengasah pensel




30 sen

2) air mineral



RM 1

3) air kotak



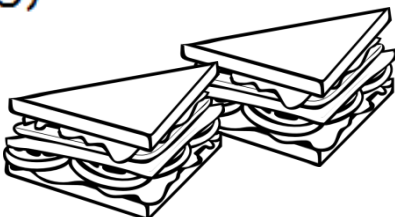
RM 1.20

4) gula-gula



20 sen

5) sandwich



RM 1.50




Hari : _____

Tarikh : _____


Padankan nilai wang yang sama

1) Ais krim




RM 2.30

2) Air kotak




RM 1

3) Roti sardin



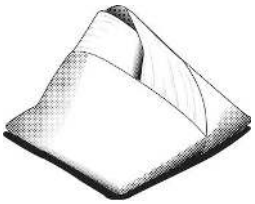
RM 1.20

4) Air mineral



RM 2

5) Nasi lemak



RM 1.50



Hari : _____

Tarikh : _____

Selesaikan

1)

Siti ada 20 sen. Emaknya beri Siti 40 sen lagi. Berapa jumlah wang yang Siti ada?

2)

Kamal ada 30 sen. Adiknya ada 20 sen. Berapakah jumlah wang mereka berdua?

3)

Maya ada RM2. Bapanya beri RM2 lagi. Berapakah wang Maya sekarang?

4)

Suraya ada RM3. Kakaknya ada RM4. Berapakah jumlah wang mereka berdua?

5)

Abu ada 80 sen. Bapanya beri 10 sen lagi. Berapakah wang Abu sekarang?